

Exercice 1- L'histoire du dioxygène terrestre

Sur 10 points

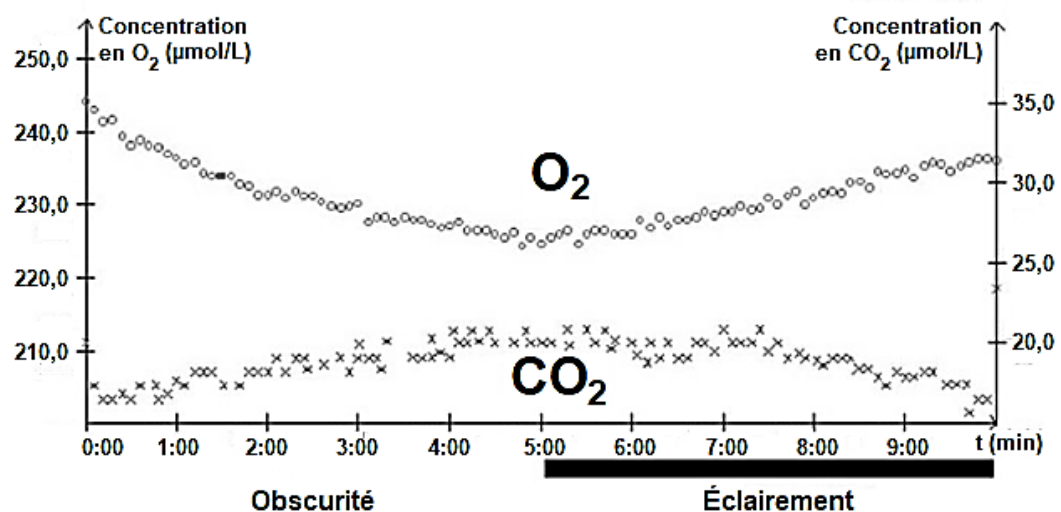
L'atmosphère primitive de la Terre, issue du dégazage au cours du refroidissement de la Terre, était très différente de l'atmosphère actuelle. La transformation de l'atmosphère au cours du temps est marquée en particulier par un fort enrichissement en dioxygène, ce qui lui a conféré un caractère oxydant.

L'objectif de cet exercice est de rechercher des arguments expliquant l'enrichissement de l'atmosphère en dioxygène, il y a 2,4 milliards d'années.

Document 1 : métabolisme des cyanobactéries actuelles

Une culture de cyanobactéries est placée dans une enceinte hermétique. Les teneurs en dioxygène et en dioxyde de carbone sont relevées sous différentes conditions d'éclairage. Les résultats sont présentés sur le graphique ci-dessous.

Évolution des teneurs en dioxygène et dioxyde de carbone de la culture de cyanobactéries



Modèle CCYC : ©DNE

Nom de famille (naissance) :


(Suivi s'il y a lieu, du nom d'usage)

Prénom(s) :

N° candidat : N° d'inscription :

(Les numéros figurent sur la convocation.)

Né(e) le : / /

 RÉPUBLIQUE FRANÇAISE

1.1

1- À l'aide du document 1, donner, en le justifiant, le nom du métabolisme utilisé par les cyanobactéries, dans l'expérience, entre 0 et 5 minutes puis entre 5 et 10 minutes.

Données : Il existe différents types de métabolismes, notamment :

- La respiration : $\text{sucre} + \text{O}_2 \rightarrow \text{CO}_2 + \text{H}_2\text{O}$
- La photosynthèse : $\text{CO}_2 + \text{H}_2\text{O en présence de lumière} \rightarrow \text{sucre} + \text{O}_2$
- La fermentation alcoolique : $\text{sucre} \rightarrow \text{CO}_2 + \text{éthanol}$

Les réactions ne sont pas ajustées, elles indiquent seulement la nature des réactifs et des produits.

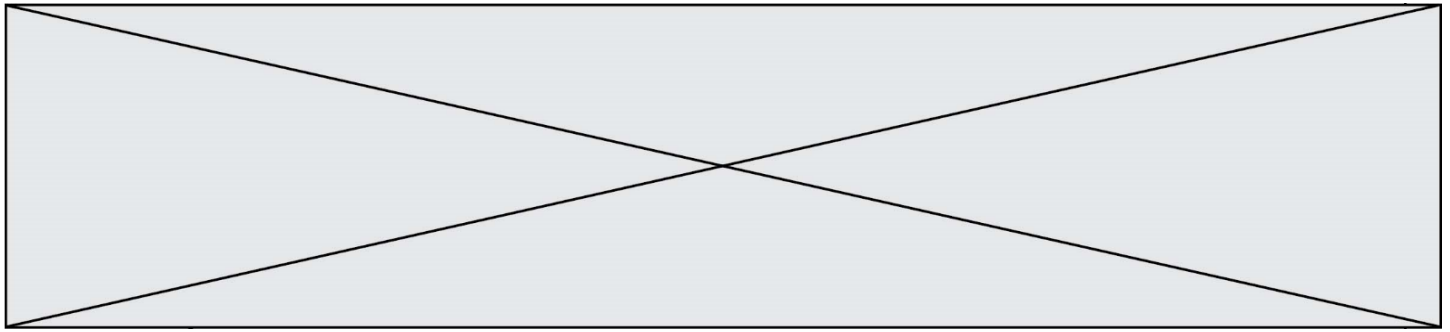
2- Les stromatolithes sont des constructions carbonatées d'origine biologique formées par des micro-organismes, dont les cyanobactéries. Les plus anciens ont été datés à environ 3,5 milliards d'années. À partir du document 1 et des connaissances, justifier l'origine de la production de dioxygène à partir de 3,5 milliards d'années.

Document 2 : les formations sédimentaires d'oxydes de fer

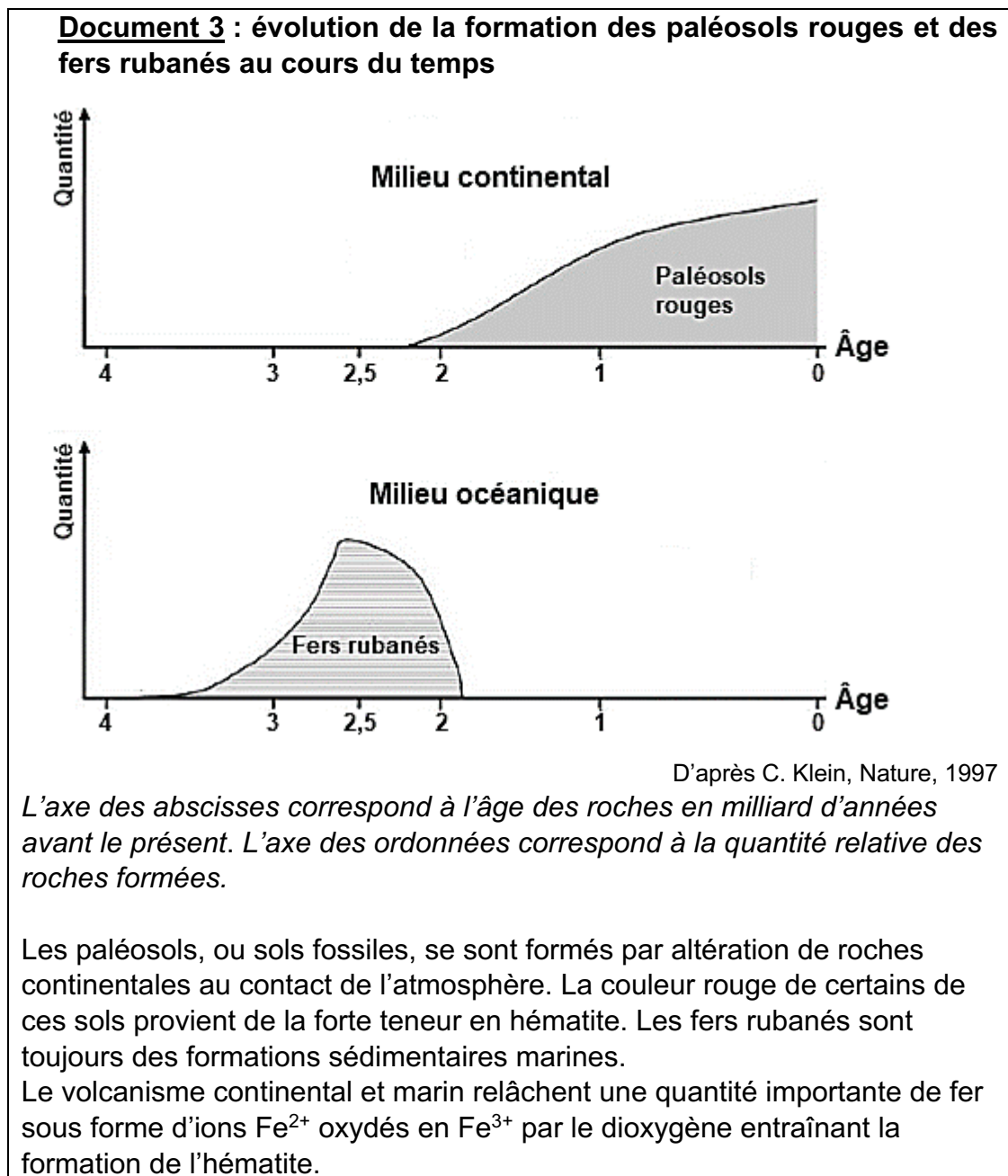
La grande majorité des minerais de fer du monde est constituée de ce qu'on appelle des fers rubanés (*Banded Iron Formation* ou BIF, en anglais). Ces BIF existent sous plusieurs formes, plus ou moins ferrugineuses, et contiennent un oxyde de fer composé de deux atomes de fer et de trois atomes d'oxygène.

Le tableau ci-dessous présente différents oxydes de fer :

Oxyde de fer	Formule brute	Description	Équation chimique de formation de l'oxyde de fer, non ajustée
Wustite	FeO	Poudre grise	$\text{Fe} + \text{O}_2 \rightarrow \text{FeO}$
Hématite	Fe_2O_3	Minéral de couleur rouille	$\text{Fe} + \text{O}_2 \rightarrow \text{Fe}_2\text{O}_3$
Magnétite	Fe_3O_4	Minéral de couleur noire	$\text{Fe} + \text{O}_2 \rightarrow \text{Fe}_3\text{O}_4$



3- Justifier que l'oxyde de fer majoritaire présent dans les BIF correspond à l'hématite et ajuster l'équation chimique de sa formation après l'avoir recopiée sur la copie.



Modèle CCYC : ©DNE

Nom de famille (naissance) :


(Suivi s'il y a lieu, du nom d'usage)

Prénom(s) :

N° candidat : **N° d'inscription** :

(Les numéros figurent sur la convocation.)

Né(e) le : / /



Liberté • Égalité • Fraternité
RÉPUBLIQUE FRANÇAISE

1.1

4- À l'aide du document 3, proposer une chronologie d'évènements ayant conduit à la mise en place d'une atmosphère riche en dioxygène.

5- D'après les connaissances, indiquer comment se forme l'ozone (O_3) dans la stratosphère et quel est son rôle sur le développement de la vie terrestre.

Fin de l'exercice